

První den jsme ušli:

km

Druhý den jsme ušli:

km

Třetí den jsme ušli:

km

Čtvrtý den jsme ušli:

km

Celkem jsme ušli:

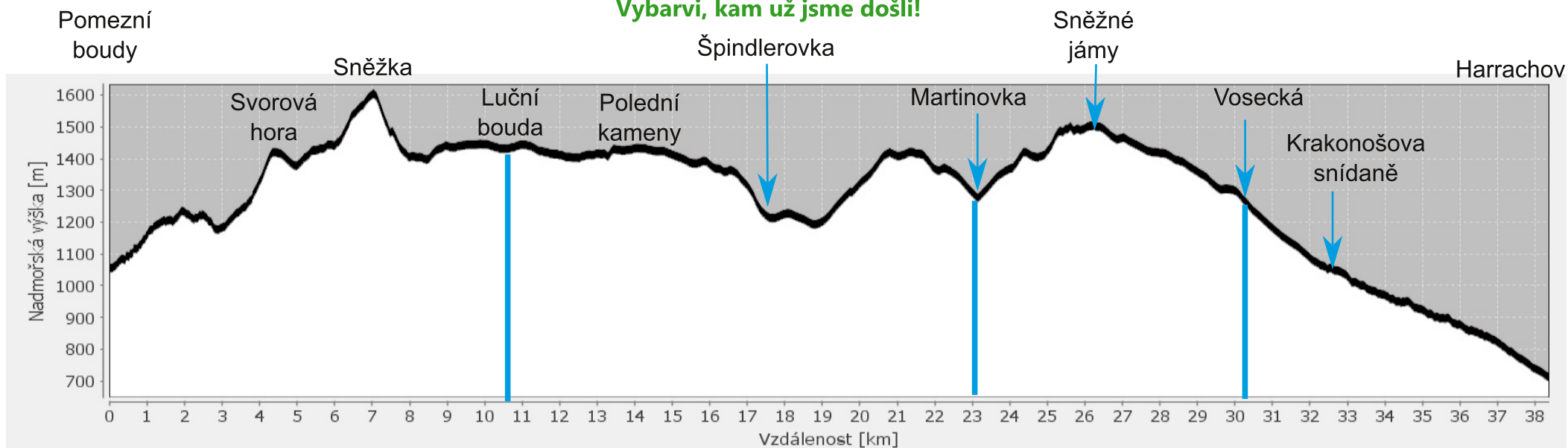
km

Přechod Krkonoš

Jméno

Datum

Vybarvi, kam už jsme došli!



Pomezní boudy

Kolik kilometrů je to na Sněžku?
































Znak



Chata Jelenka

Jaké zvíře je před chatou?
Namaluj ho!

Němé značky Krkonoš

 Benecko	 Bílé Labe	 Černá b.	 Dvoračky	 Hřeben	 Hmčífské Boudy	 Jablonec n.J.	 Janské Lázně
 Klínovky	 Labská bouda	 Lahrovy Boudy	 Liščí hora	 Lučiny	 Luční b.	 Martinova b.	 Mísečky
 Harrachov	 Pec p.S.	 Petrovka	 Pomezní Boudy	 Rezek	 Rokytnice n.J.	 Rýchorská b.	 Sněžka
 Sněžné jámy	 Špindlerova b.	 Špindlerův Mlýn	 Úpa	 Vocecká b.	 Vrchlabí	 Žacléř	

1

Razítko z Jelenky

14

Sněžné jámy

Kolik je sněžných jam?

Jaká je tu nadmořská výška?

Jak je odtud daleko na
Labskou boudu?

Jakou barvu střechy má
budova?

Znak



Česká budka

Jaké označení má bod
záchrany?

Jaké je telefonní číslo Horské
služby?

Kolik je na rozcestníku
cedulek?

Jaká je tu nadmořská výška?

Chata Martinovka

Znak



Razítko

9

6

Liščí stezka

Jaké úkoly tady lišky musí provádět?

Harachov

Znak



Svorová hora

Jak vysoká je?

Sněžka

Jak vysoká je?

Znak



Jak se jmenuje kaple?

13

Razítko ze Sněžky

2

Petrova bouda

Jak byla zničena původní chata?
Namaluj!

První skály - jak se jmenují?

Druhé skály - jak se jmenují?


Znak



5

Prameny Labe

Kterému městu patří tento erb?
Vybarvi ho!



Změř pH vody pomocí proužku

10

Luční bouda

Jak se jmenuje zdejší bernardýn?

Znak



Krakonošova snídane

Jaká zvířata jsou na informační ceduli?

Mumlava

Změř pH vody pomocí proužku

3

Razítko

12

Vosecká bouda

Znak



Polední kameny

Jaké barvy turistických značek se tu potkávají?

Chata Špindlerovka

Znak



Křížek ČSR žena

Jaké je na křížku datum?

11

Razítko

Razítko

4